

**EGZAMIN**  
**POTWIERDZAJĄCY KWALIFIKACJE ZAWODOWE**  
**Czerwiec 2006**

**ETAP PISEMNY**

**Instrukcja dla zdającego**

1. Sprawdź, czy arkusz egzaminacyjny, który otrzymałeś zawiera 18 stron. Ewentualny brak stron lub inne usterki zgłoś przewodniczącemu zespołu nadzorującego.
2. Do arkusza dołączona jest KARTA ODPOWIEDZI, na której:
  - wpisz odczytany z arkusza egzaminacyjnego symbol cyfrowy zawodu,
  - odczytaj z arkusza egzaminacyjnego oznaczenie wersji arkusza (X, Y, Z) i zamaluj kratkę z odpowiadającą jej literą,
  - wpisz swój numer PESEL i zakoduj go,
  - wpisz swoją datę urodzenia.
3. Arkusz egzaminacyjny składa się z dwóch części.
4. Część I zawiera 50 zadań, część II 20 zadań.
5. Za każde poprawnie rozwiązane zadanie możesz uzyskać 1 punkt.
6. Aby zdać etap pisemny egzaminu musisz uzyskać co najmniej 25 punktów z części I i co najmniej 6 punktów z części II.
7. Czytaj uważnie wszystkie zadania.
8. Rozwiązania zaznaczaj na KARCIE ODPOWIEDZI długopisem lub piórem z czarnym tuszem/atramentem.
9. Do każdego zadania podane są cztery możliwe odpowiedzi: A, B, C, D. Odpowiada im następujący układ kratek w KARCIE ODPOWIEDZI:

A	B	C	D
---	---	---	---

10. Tylko jedna odpowiedź jest poprawna.
11. Wybierz właściwą odpowiedź i zamaluj kratkę z odpowiadającą jej literą – np. gdy wybrałeś odpowiedź "A":

<input checked="" type="checkbox"/>	B	C	D
-------------------------------------	---	---	---

12. Staraj się wyraźnie zaznaczać odpowiedzi. Jeżeli się pomylisz i błędnie zaznaczysz odpowiedź, otocz ją kółkiem i zaznacz odpowiedź, którą uważasz za poprawną, np.

<input checked="" type="checkbox"/>	B	C	<input checked="" type="checkbox"/>
-------------------------------------	---	---	-------------------------------------

13. Po rozwiązaniu testu sprawdź, czy zaznaczyłeś wszystkie odpowiedzi na KARCIE ODPOWIEDZI i wprowadziłeś wszystkie dane, o których mowa w punkcie 2 tej instrukcji.

Pamiętaj, że oddajesz przewodniczącemu zespołu nadzorującego tylko KARTĘ ODPOWIEDZI.

*Powodzenia!*

## CZĘŚĆ I

### Zadanie 1.

Rysunek przedstawia przekrój poprzeczny i kształt podłużny włókna pochodzenia naturalnego widzianego pod mikroskopem. Jest to włókno

- A. lnu.
- B. wełny.
- C. jedwabiu.
- D. bawełny.



### Zadanie 2.

Włókno, które pali się krótkim urywaniem płomieniem, wydzielając zapach palonych włosów i jest podatne na spłsňnianie to

- A. len.
- B. wełna.
- C. bawełna.
- D. konopie.

### Zadanie 3.

Która z wymienionych cech jest właściwością estetyczną tkaniny?

- A. Wodoodporność.
- B. Odporność na gneczenie.
- C. Odporność na ścieranie.
- D. Przepuszczalność powietrza.

### Zadanie 4.

Podstawowym składnikiem włókna wełnianego jest

- A. białko.
- B. pektyna.
- C. lanolina.
- D. celuloza.

### Zadanie 5.

Największą higroskopijność posiada tkanina z włókien

- A. lnu.
- B. wełny.
- C. jedwabiu.
- D. bawełny.

### Zadanie 6.

Jakim zabiegiem konserwacyjnym w procesie użytkowania powinno poddać się kostium damski wykonany z tkaniny wełnianej?

- A. Suszyć w suszarce.
- B. Czyścić chemicznie.
- C. Wybielać w chlorze.
- D. Prać w temperaturze 50°C.

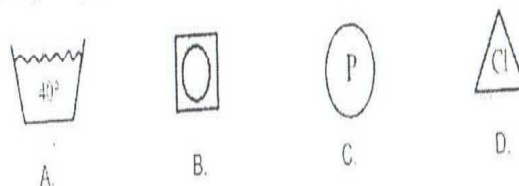
### Zadanie 7.

Temperatura prasowania kurtki wykonanej z ortalionu powlekanej apreturą wodoodporną wynosi

- A. 110°C
- B. 120°C
- C. 130°C
- D. 140°C

### Zadanie 8.

Który ze znaków informacyjnych, powinien znaleźć się na przywieszce płaszcza damskiego uszytego z flauszu?



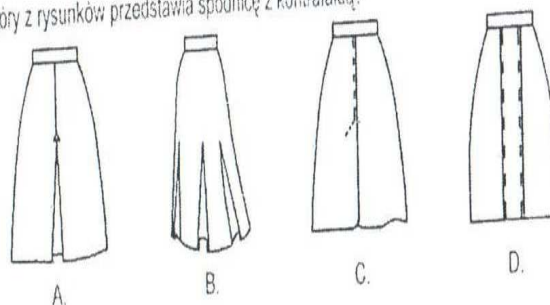
### Zadanie 9.

Proces uszlachetnienia wyrobów bawełnianych stężoną zasadą sodową na zimno to

- A. orientacja.
- B. kotonizacja.
- C. karbonizacja.
- D. merceryzacja.

### Zadanie 10.

Który z rysunków przedstawia spódnicę z kontrafakdą?



### Zadanie 20.

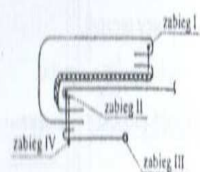
Ustawienie zespołów roboczych w układzie liniowym, podział zespołu na sekcje wykonujące jednorodne elementy odzieży np.: tyły, przody, to cechy systemu

- A. taśmowego.
- B. potokowego.
- C. wielosekcyjnego.
- D. taśmowo-sekcyjnego.

### Zadanie 21.

Przedstawiony na schemacie zabieg połączenia kołnierza wierzchniego z kołnierzem spodnim to

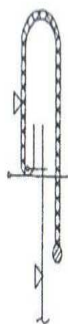
- A. zabieg I
- B. zabieg II
- C. zabieg III
- D. zabieg IV



### Zadanie 22.

Rysunek węża technologicznego, występującego w spódnicy damskiej, informuje o sposobie wykonania operacji

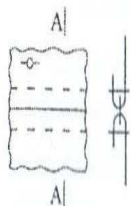
- A. podklejenia paska i przyfastrygowania.
- B. odszycia paska i zaprasowania.
- C. przyszycia paska i zaprasowania.
- D. przyszycia i przestębnowania paska.



### Zadanie 23.

Rysunek przedstawia szew zwykły

- A. rozłożony rozprasowany.
- B. rozłożony obrzucony.
- C. rozłożony rozstębnowany.
- D. przelożony przestębnowany.



### Zadanie 24.

Do wykonania spódnicy z falbanami ze względu na dobrą ukladalność powinno się zastosować tkaninę

- A. boucle.
- B. żorżetę.
- C. elanę.
- D. loden.

### Zadanie 25.

Do wykonania płaszcza damskiego przeznaczonego na sezon zimowy należy wybrać

- A. pikę.
- B. krepe.
- C. flausz.
- D. żorżetę.

### Zadanie 26.

Na bieliznę dla niemowląt najlepiej zastosować materiały wykonane z

- A. jedwabiu.
- B. wełny.
- C. bawełny.
- D. lnu.

### Zadanie 27.

Projektując spódnice inspirowaną okresem biedermeier należy w dole spódnicy zastosować

- A. z tytu drapowanie.
- B. falbany i marszczenia.
- C. ozdobne godety.
- D. zdobienia taśmami i cekinami.

### Zadanie 28.

Projektując sukienkę dla sylwetki X należy zainspirować się latami

- A. dwudziestymi.
- B. trzydziestymi.
- C. pięćdziesiątymi.
- D. osiemdziesiątymi.



### Zadanie 29.

Typowymi elementami polskiego stroju szlacheckiego w wieku XVIII były

- A. frak i pantalony.
- B. kontusz i żupan.
- C. wams i spodnie.
- D. marynarka i spodnie.

### Zadanie 30.

Projektując wyrób odzieżowy inspirowany sztuką współczesną dla osoby otyłej zastosujesz materiał o wzorze

- A. kolorowej kratki.
- B. jednolitym ciemnym.
- C. pasków poprzecznych.
- D. dużym symetrycznym.

### Zadanie 31.

Głębokość pachy (SP) w bluzce damskiej oblicza się na podstawie funkcji

- A. wzrostu i obwodu talii.
- B. wzrostu i obwodu klatki piersiowej.
- C. wzrostu i połowy szerokości tyłu.
- D. wzrostu i połowy szerokości przodu.

### Zadanie 32.

Do konstrukcji jakiego elementu bluzki zastosujesz pomiar łuku długości kończyny górnej wyrażony symbolem  $RvNv$ ?

- A. Tyłu.
- B. Przodu.
- C. Rękawa.
- D. Karczka.

### Zadanie 33.

Który zestaw pomiarów zastosujesz przy konstrukcji spodni?

- A. łuk długości pleców  $SyTy$ , obwód klatki piersiowej  $opx$ .
- B. Wysokość kolana  $ZKo$ , obwód szyi  $os$ .
- C. Wysokość talii  $ZTv$ , obwód bioder  $obt$ .
- D. Łuk szerokości barków  $RvRv$ , obwód uda  $ou$ .

### Zadanie 34.

Na podstawie formy przodu i tyłu bluzki w procesie modelowania otrzymasz kołnierz

- A. szalowy.
- B. sportowy.
- C. koszulowy.
- D. be-be.

### Zadanie 35.

Do modelowania przodu bluzki z cięciami francuskimi, zaszkawkę piersiową należy przenieść na linię

- A. podkroju szyi.
- B. barku.
- C. podkroju pach.
- D. dołu.

### Zadanie 36.

Dla kolorowej kraty o nieregularnym wzorze należy zastosować układ szablonów

- A. symetryczny, jednokierunkowy.
- B. symetryczny, dwukierunkowy.
- C. asymetryczny, dwukierunkowy.
- D. asymetryczny, jednokierunkowy.

### Zadanie 37.

Jednokierunkowy układ szablonów powinno się zastosować dla tkaniny

- A. z okrywą włosową.
- B. w regularne paski.
- C. gładkiej bez odcieni.
- D. o regularnym wzorze.

### Zadanie 38.

Obliczając zużycie materiału na spodnie damskie podstawowe należy wziąć pod uwagę

- A. obwód talii, długość spodni.
- B. obwód bioder, szerokość materiału.
- C. długość spodni, rodzaj materiału.
- D. długość spodni, szerokość i rodzaj materiału.

**Zadanie 39.**

Którą maszynę należy zastosować do podwinięcia dołu wyrobu odzieżowego wykonanego z dzianiny?

- A. Owerlok.
- B. Hałciarkę.
- C. Stębnówkę.
- D. Dwuigłówkę.

**Zadanie 40.**

Do łączenia elementów odzieży z tkaniny elastycznej, rozciągliwej należy zastosować stębnówkę

- A. członkową.
- B. łańcuskową.
- C. wieloigłową.
- D. wieloczynnościową.

**Zadanie 41.**

Obsadzenie dekoltu w kształcie litery V w bluzce damskiej z wiskozy powinno usztywnić się wkładem

- A. laminującym.
- B. nośnym.
- C. klejowym.
- D. uzupełniającym.

**Zadanie 42.**

Wskaż kolejne czynności, które zastosujesz podczas szycia spódnicy podstawowej.

- A. Zszycie zaszewek, zszycie boków, podwinięcie dołu, wszycie paska i zamka.
- B. Zszycie zaszewek, zszycie boków, wszycie zamka i paska, podwinięcie dołu.
- C. Zszycie boków, wszycie paska i zamka, podwinięcie dołu, zszycie zaszewek.
- D. Zszycie boków, zszycie zaszewek, podwinięcie dołu, wszycie paska i zamka.

**Zadanie 43.**

Które zabiegi można połączyć w operację technologiczną?

- A. Obrzucenie przodów, tyłu, rękawów, obłożeń.
- B. Podklejenie obłożeń, przyszywanie obłożeń do przodów.
- C. Obrzucenie przodów, tyłu, zszycie przodów z tyłem.
- D. Zszycie przodów z tyłem, rozprasowanie szwów.

#### Zadanie 44.

W celu zabezpieczenia rąk przed poparzeniem parą wydostającą się z prasownalnicy należy

- A. prawidłowo zamknąć poduszki.
- B. stosować izolację elementów grzejnych.
- C. izolować prasowacza od podłogi płytą gumową.
- D. parę doprowadzić po zamknięciu prasownalnicy.

#### Zadanie 45.

W celu uniknięcia poparzenia dłoni parą na stanowisku prasowania nie należy używać żelazka

- A. ze szczelnymi przewodami parowymi.
- B. z wyłącznikiem pary.
- C. z podkładką metalową.
- D. z podkładką teflonową.

#### Zadanie 46.

Na stanowisku pracy maszyny krojącej taśmowej, pracownik powinien zakładać

- A. okulary ochronne.
- B. maskę lub półmaskę.
- C. rękawice gumowe.
- D. rękawice z dzianej siatki metalowej.

#### Zadanie 47.

Podczas pracy na prasach elektrycznych, prasowacz nie powinien izolować się od podłogi

- A. metalowym podestem.
- B. dywanikiem gumowym.
- C. drewnianym podestem.
- D. podkładką teflonową.

#### Zadanie 48.

Aby zapobiec wypadkom podczas obsługi maszyn pracownicy powinni być

- A. zaznajomieni z maszyną.
- B. dyspozycyjni w czasie pracy.
- C. wykształceni w danym zawodzie.
- D. przeszkoleni z zakresu przepisów bhp i p/poż.

### Zadanie 49.

W celu ochrony oczu i twarzy przed odpryskami igieł lub guzików, guzikarki powinny być wyposażone w

- A. ochraniacz szpaki.
- B. płytkę metalową.
- C. płytkę z plexiglasu.
- D. ruchomy ochraniacz igły.

### Zadanie 50.

Udzielając pomocy osobie porażonej prądem na stanowisku prasowniczym należy w pierwszej kolejności

- A. podać lekarstwa.
- B. założyć kompres.
- C. odłączyć dopływ prądu.
- D. wezwać pogotowie ratunkowe.

## CZĘŚĆ II

### Zadanie 51.

Do dóbr konsumpcyjnych nie zalicza się

- A. żywności.
- B. odzieży.
- C. sprzętu RTV.
- D. maszyn produkcyjnych.

### Zadanie 52.

Podstawowym zadaniem banków komercyjnych jest

- A. udostępnianie sejfów bankowych.
- B. prowadzenie badań marketingowych.
- C. gromadzenie depozytów i udzielanie kredytów.
- D. inwestowanie na Giełdzie Papierów Wartościowych.

### Zadanie 53.

Absolwent technikum podjął w dniu 1 stycznia 2005 r. pierwszą pracę na podstawie umowy o pracę w wymiarze  $\frac{1}{2}$  etatu. Na dzień 1 lipca 2005 r. będzie mógł skorzystać z urlopu wypoczynkowego wynoszącego

- A. 5 dni
- B. 7 dni
- C. 10 dni
- D. 13 dni

#### Art.153

Pracownik podejmujący pracę po raz pierwszy, w roku kalendarzowym, w którym podjął pracę, uzyskuje prawo do urlopu z upływem każdego miesiąca pracy w wymiarze  $\frac{1}{12}$  wymiaru urlopu przysługującego mu po przepracowaniu roku.

#### Art.154

Wymiar urlopu wynosi:

- 20 dni roboczych, jeżeli pracownik jest zatrudniony krócej niż 10 lat,
- 26 dni roboczych, jeżeli pracownik jest zatrudniony co najmniej 10 lat.

Wymiar urlopu dla pracownika zatrudnionego w niepełnym wymiarze czasu pracy ustala się proporcjonalnie do wymiaru czasu pracy tego pracownika.

Wyciąg z Kodeksu pracy. Art. 153 i Art. 154

### Zadanie 54.

Najkorzystniejsza wysokość oprocentowania lokaty terminowej to

- A. 1%
- B. 2,5%
- C. 3%
- D. 4,5%

### Zadanie 55.

Na rynku pojawił się nowy produkt. Ceny, ilości oferowane przez producenta oraz ilości nabywane przez konsumenta przedstawia tabela. Ile wynosi cena równowagi rynkowej?

- A. 50 zł
- B. 52 zł
- C. 54 zł
- D. 56 zł

Ilość oferowana w szt.	Cena w zł/szt.	Ilość nabywana w szt.
100	50	500
200	52	400
300	54	300
400	56	200
500	58	100

#### Zadanie 56.

Wynagrodzenie pracownika zatrudnionego w systemie akordowym, który wytworzył w ciągu miesiąca 5 000 sztuk produktu, otrzymując 0,30 zł za 1 sztukę wyniesie

- A. 1 400 zł
- B. 1 500 zł
- C. 1 600 zł
- D. 1 700 zł

#### Zadanie 57.

Najstarsza forma handlu, której istotą jest wymiana towaru na inny towar to

- A. barter.
- B. import.
- C. eksport.
- D. reeksport.

#### Zadanie 58.

Zgodnie z prawem popytu, wzrost ceny danego dobra powoduje, że

- A. nabywcy zwiększają zakupy.
- B. nabywcy ograniczają zakupy.
- C. producenci ograniczają produkcję.
- D. producenci wytwarzają więcej dóbr.

#### Zadanie 59.

Podatek VAT obliczony od sprzedaży według raportów kas fiskalnych wynosi 11 000 zł. Podatek VAT obliczony od zakupu według faktur VAT wynosi 4 700 zł. Jaka kwotę podatku VAT odprowadzi podatnik do urzędu skarbowego?

- A. 4 700 zł
- B. 6 300 zł
- C. 11 000 zł
- D. 15 700 zł

#### Zadanie 60.

Procedura rejestracyjna przedsiębiorstwa obejmuje między innymi zgłoszenie dla celów podatkowych, którego należy dopełnić w

- A. Urzędzie Miasta.
- B. Urzędzie Skarbowym.
- C. Urzędzie Statystycznym.
- D. Krajowym Rejestrze Sądowym.

#### Zadanie 61.

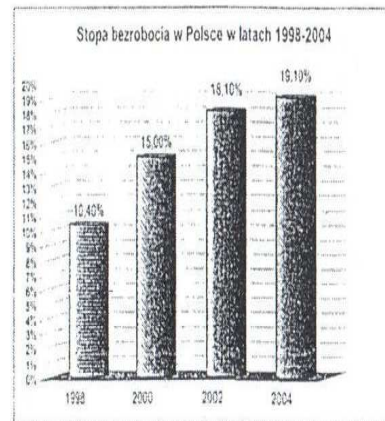
Osoba fizyczna prowadząca jednoosobowe przedsiębiorstwo podejmuje i wykonuje działalność gospodarczą w oparciu o przepisy ustawy

- A. Kodeks pracy.
- B. Prawo spółdzielcze.
- C. Kodeks spółek handlowych.
- D. o swobodzie działalności gospodarczej.

#### Zadanie 62.

Na podstawie wykresu określ, w którym roku w Polsce nastąpił największy przyrost bezrobocia w stosunku do okresu poprzedniego.

- A. 1998
- B. 2000
- C. 2002
- D. 2004





### Zadanie 63.

Podatnik prowadzący działalność gospodarczą opodatkowaną w formie karty podatkowej zamierza złożyć w urzędzie skarbowym zeznanie podatkowe. Którą deklarację podatkową powinien wypełnić?

- A. PIT-36
- B. PIT-36L
- C. PIT-16A
- D. PIT-28

**PIT-36** przeznaczony jest dla osób, które osiągnęły dochody (poniosły straty) z działalności gospodarczej opodatkowanej na zasadach ogólnych, z której rozliczyły się w trakcie roku samodzielnie.

**PIT-36L** zeznanie o wysokości osiągniętego w roku poprzednim dochodu (poniesionej straty) z pozarolniczej działalności gospodarczej opodatkowanej stawką liniową 19%.

**PIT-16A** przeznaczony dla podatników karty podatkowej, roczna deklaracja o wysokości składki na powszechne ubezpieczenie w NFZ zapłaconej i odliczonej od karty podatkowej w poszczególnych miesiącach.

**PIT-28** przeznaczony dla osób prowadzących działalność opodatkowaną ryczałtem od przychodów ewidencjonowanych.

### Zadanie 64.

Proces wzrostu ogólnego poziomu cen to

- A. inflacja.
- B. deflacja.
- C. indeksacja.
- D. dewaluacja.

### Zadanie 65.

Życiorys zawodowy powinien zawierać zwięzłe informacje na temat

- A. doświadczenia zawodowego.
- B. danych dotyczących rodziny.
- C. oczekiwanego wynagrodzenia.
- D. motywów podjęcia oferowanej pracy.

### Zadanie 66.

Akcja jest papierem wartościowym potwierdzającym

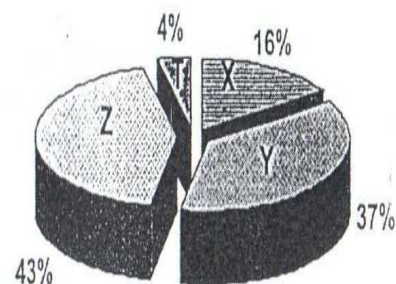
- A. udzielenie pożyczki.
- B. zaciągnięcie pożyczki.
- C. udział w kapitale spółki akcyjnej.
- D. udział w kapitale Skarbu Państwa.

### Zadanie 67.

Wykres przedstawia wyniki sprzedaży samochodów osobowych w kraju w danym roku. Która z marek samochodów (X, Y, Z, T) była najczęściej kupowana?

- A. X
- B. Y
- C. Z
- D. T

Wyniki sprzedaży samochodów osobowych w danym roku



### Zadanie 68.

Dokumentem określającym tryb rozwiązania stosunku pracy, w którym zawarte są także informacje dotyczące między innymi okresu i rodzaju wykonywanej pracy, zajmowanych stanowisk, wysokości i składników wynagrodzenia jest

- A. umowa o pracę.
- B. list motywacyjny.
- C. świadectwo pracy.
- D. życiorys zawodowy.

### Zadanie 69.

Podatnik złożył roczne zeznanie podatkowe w dniu 28 kwietnia 2005 r. Zamieszczony poniżej fragment deklaracji PIT-36 dotyczy zeznania o wysokości osiągniętego dochodu (poniesionej straty) w roku podatkowym

- A. 2002
- B. 2003
- C. 2004
- D. 2005

POL TAX		
1. Numer identyfikacyjny podatnika	2. Numer identyfikacji podatkowej	3. Rok podatkowy
64 53 28 15 17		2004
PIT-36		
ZEZNANIE O WYSOKOŚCI OSIĄGNIĘTEGO DOCHODU (PONIESIONEJ STRATY) W ROKU PODATKOWYM 2004		
Formularz jest przeznaczony dla podatnika. Jeśli nie wypełnia deklaracji PIT-36		
Podatnik powiada: <input checked="" type="checkbox"/> oświadczam, że dane są prawdziwe <input type="checkbox"/> oświadczam, że dane są nieprawdziwe		
Termin składania: Do dnia 30 kwietnia roku następującego po roku podatkowym		
Miejsce składania: Urząd skarbowy właściwy według miejsca zamieszkania lub pobytu		
6. Podpis podatnika (lub osoby upoważnionej) i data		

**Zadanie 70.**

Cechą umowy o pracę na czas określony jest między innymi to, że

- A. zawiera tylko datę rozpoczęcia pracy.
- B. nie jest podana data ustania stosunku pracy.
- C. zawiera okres wypowiedzenia stosunku pracy.
- D. zawiera wyraźnie określoną datę zakończenia pracy.

..... pieczęć pracodawcy	Katowice, dn. 1 grudnia 2001 r.
<b>Umowa o pracę na czas określony</b>	
Zawarta 1 grudnia 2001 r. w Katowicach pomiędzy Kola Sp. z o.o. z siedzibą w Katowicach ul. Dworska 31, zwaną dalej Pracodawcą, reprezentowanym przez Pana Marcina Kowalskiego a Panią Marią Nowak zamieszkałą w Sosnowcu, ul. Długa 4, zwaną dalej Pracownikiem o treści następującej:	
<ol style="list-style-type: none"><li>1. Pracodawca zatrudnia Pracownika na czas określony od 1 grudnia 2001 r. do 31 lipca 2002 r. na stanowisku przedstawiciela handlowego w pełnym wymiarze czasu pracy.</li><li>2. Do obowiązków Pracownika należy nawiązywanie kontaktów z nowymi oraz utrzymywanie z dotychczasowymi klientami, oferowanie i sprzedaż komputerów.</li><li>3. Pracownik wykonuje pracę na terenie województwa śląskiego.</li><li>4. Pracownik jest zobowiązany stawić się do pracy 1 grudnia 2001 r. w siedzibie Pracodawcy.</li><li>5. Za wykonaną pracę Pracownik otrzymuje wynagrodzenie zasadnicze 3 000 zł brutto oraz miesięczną prowizję od obrotu: 100 zł brutto od sprzedaży każdego komputera.</li><li>6. Umowę sporządzono w dwóch jednobrzmiących egzemplarzach, po jednym dla każdej ze stron.</li></ol>	
Pracownik	Pracodawca
..... podpis	..... podpis